

## 311-2 小3SS三角形

P. 1 ふくしゅうNo. 1

- ① ( 三角形 ) ② ( 四角形 ) ③ ( 四角形 ) ④ ( 三角形 )

P. 2 ふくしゅうNo. 2

1	三角形	へん ( 3つ )	四角形	へん ( 4つ )
		ちょう点 ( 3つ )		ちょう点 ( 4つ )

- 2 ① ( 三角形 ) ( 3 ) ( 3 )
- ② ( 四角形 ) ( 4 ) ( 4 )

P. 3 ふくしゅうNo. 3

1 ① ( 4つ ) ② ( 4つ )

P. 4 ふくしゅうNo. 4

1 ( ②, ④, ⑥ )

P. 5 ふくしゅうNo. 5

1 ① ( 2つ ) ② ( 2つ )

2 ( ①, ②, ④ )

P. 6 ふくしゅうNo. 6

1 ① ( 三角形 ) ② ( 直角三角形 ) ③ ( 3つ ) ④ ( 3つ )

P. 7 ふくしゅうNo. 7

1 ① ( 四角形 ) ② ( 長方形 ) ③ ( 正方形 ) ④ ( 4つ )

⑤ ( 4つ )

P. 8 二等辺三角形と正三角形No. 1

1 ① ( 5cm ) ( 5cm ) ( 3cm )

② ( 4cm ) ( 4cm ) ( 4cm )

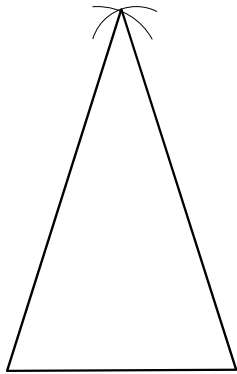
P. 9 二等辺三角形と正三角形No. 2

1 二等辺三角形 ( ウ ) ( オ ) 正三角形 ( ア ) ( キ )

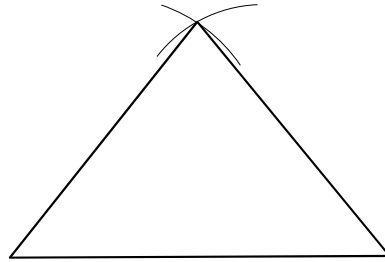
2 二等辺三角形 ( エ ) ( カ ) 正三角形 ( ウ ) ( ク )

P. 10 二等辺三角形と正三角形のかき方No. 1

1

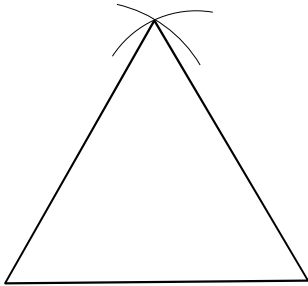


2

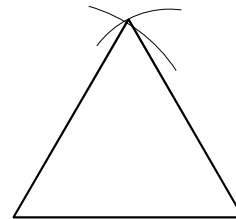


P. 11 二等辺三角形と正三角形のかき方No. 2

1

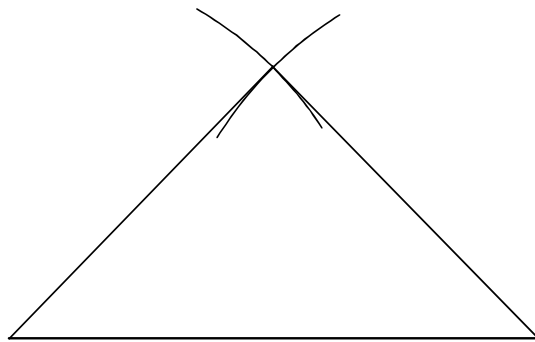


2

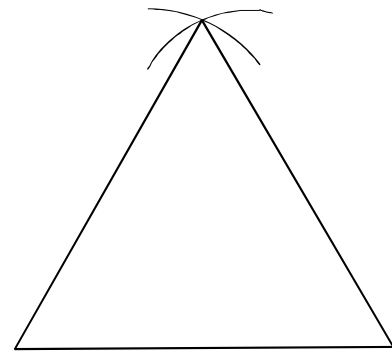


P. 12 二等辺三角形と正三角形のかき方No. 3

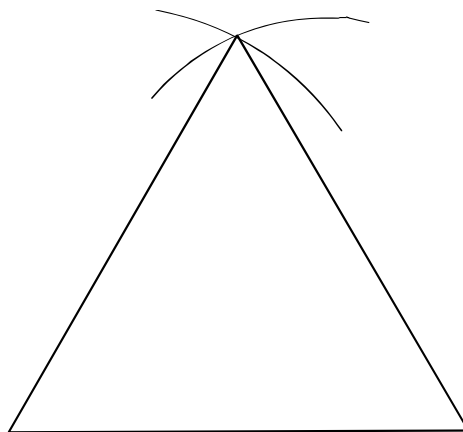
1



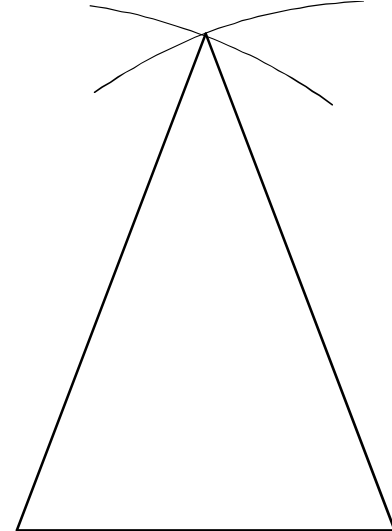
イ



ウ

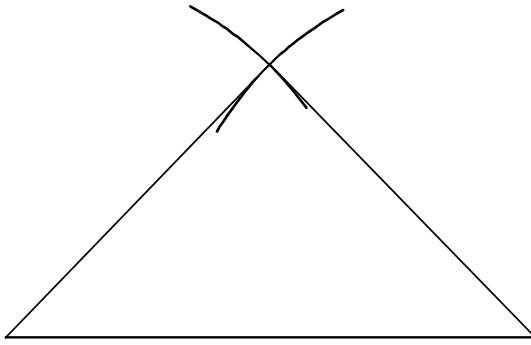


エ

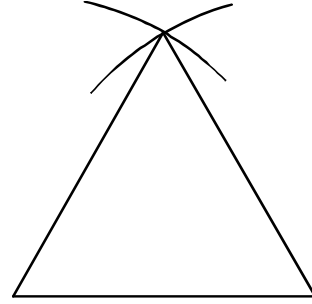


P. 13 二等辺三角形と正三角形のかき方No. 4

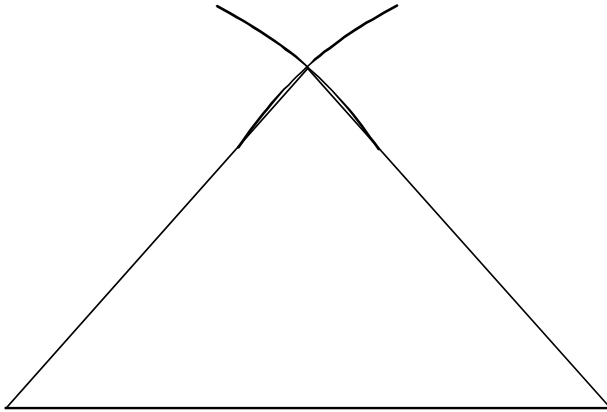
1 ア



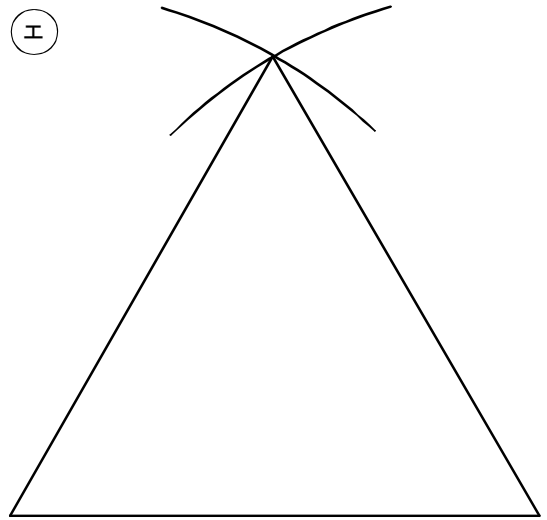
イ



ウ

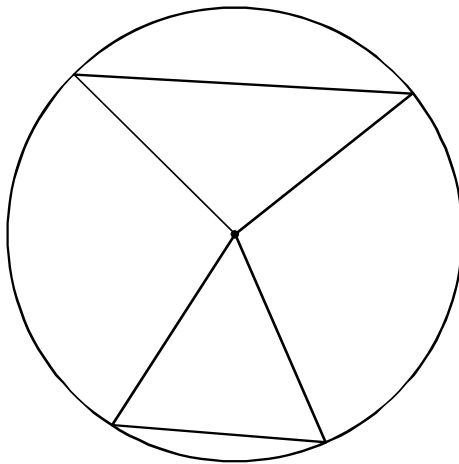


エ

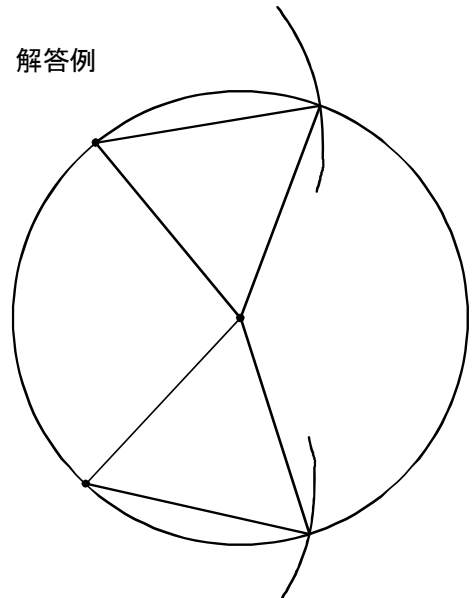


P. 14 円と三角形No. 1

1 ① 解答例

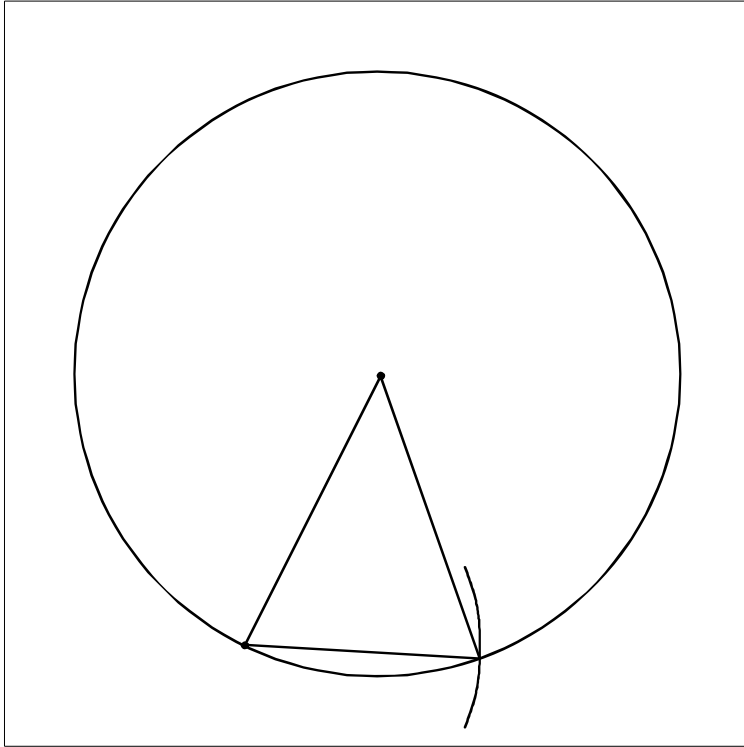


② 解答例

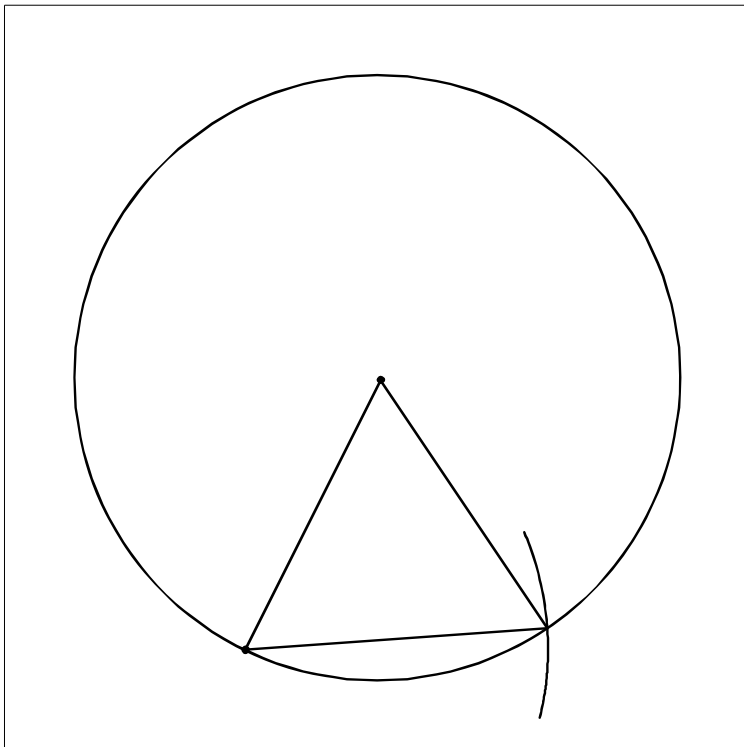


P. 15 円と三角形No. 2

1 ① 解答例

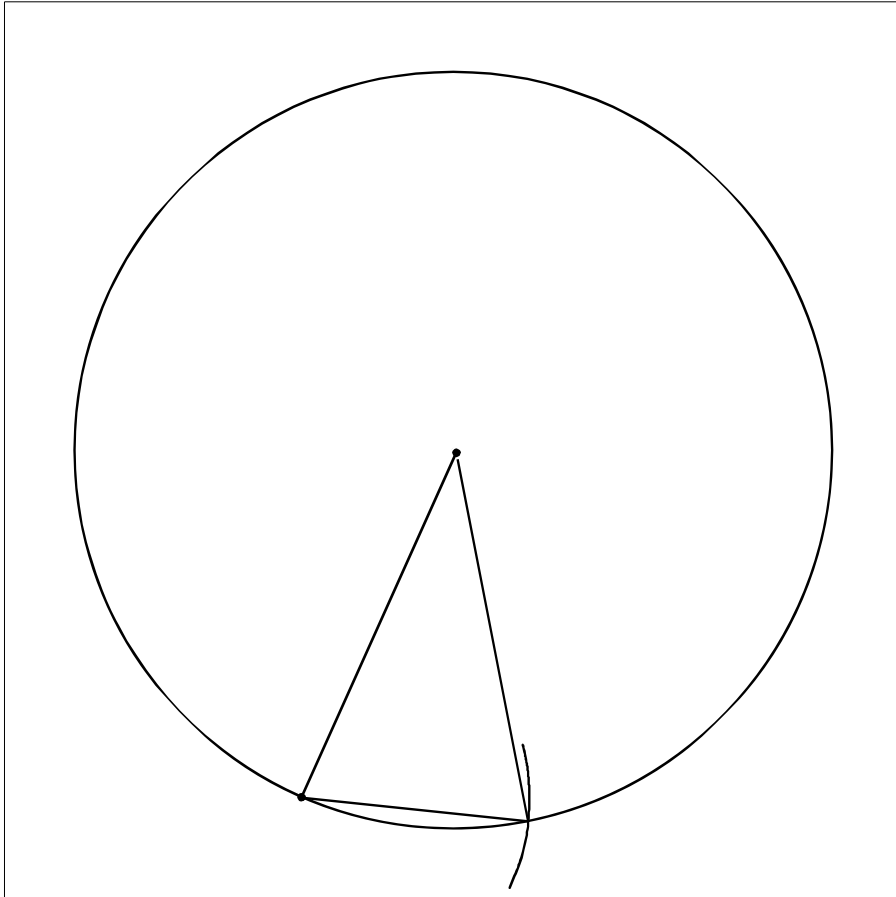


2 ② 解答例

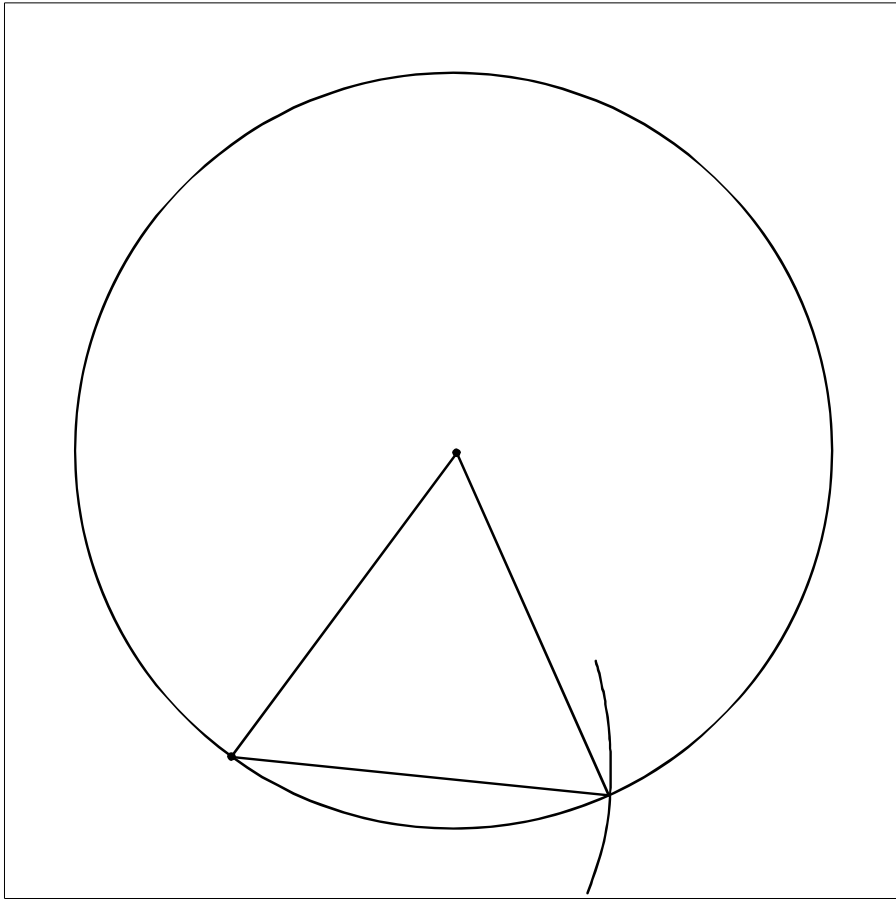


P. 16 円と三角形No. 3

1 ① 解答例

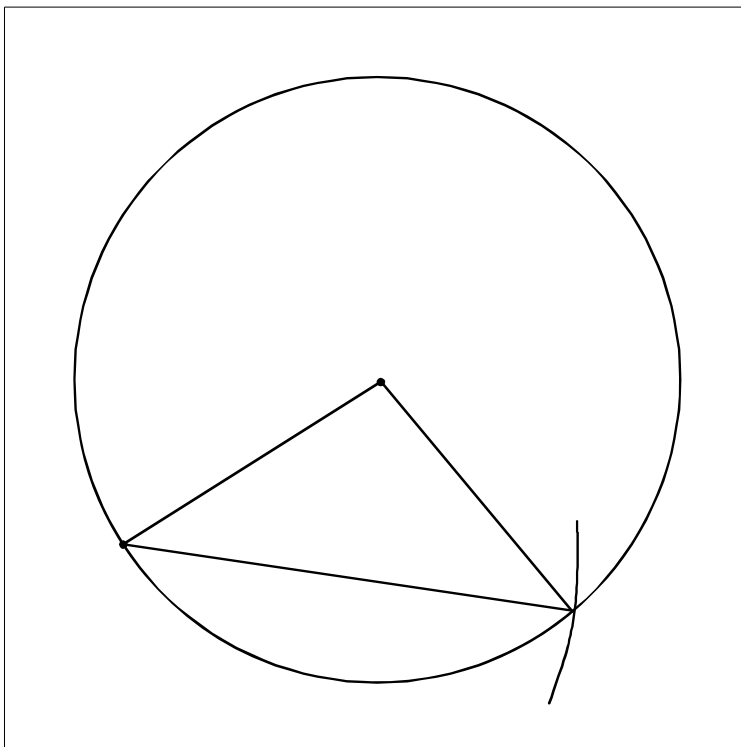


② 解答例

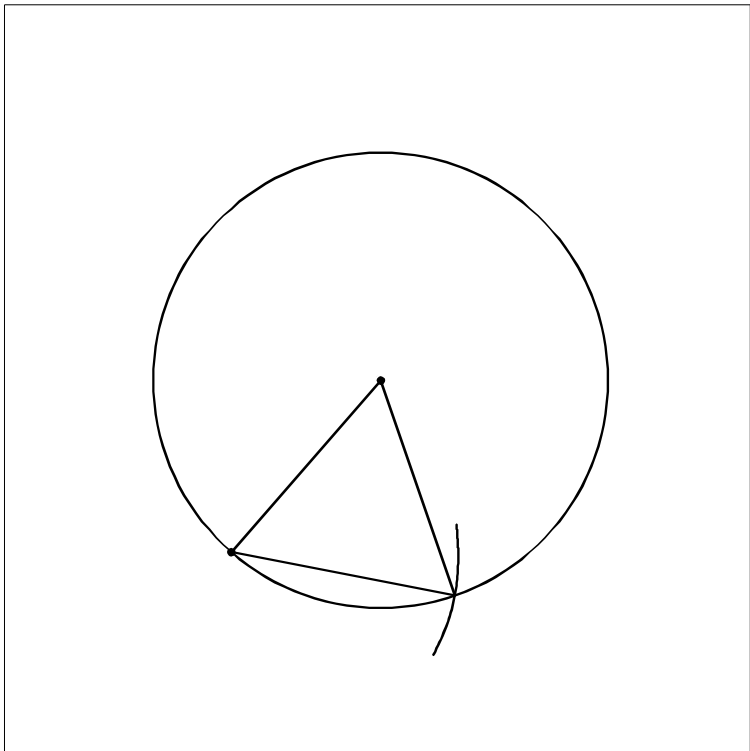


P. 17 円と三角形No. 4

1 ① 解答例



② 解答例



P. 18 三角形と角No. 1

1 ( う あ い )

P. 19 三角形と角No. 2

1 ( い あ う )

2 ( い う あ )

3 ① ( い ) ② ( あ ) と ( う )

P. 20 三角形と角No. 3

1 あより大きい角 ( い ) と ( お )

あより小さい角 ( う ) と ( え )

2 ( い あ え う )

P. 21 三角形と角No. 4

1 ( ぴったりかさなる )

2 ① ( ぴったりかさなる ) ② ( ぴったりかさなる ) ③ ( (すべて)同じ )

P. 22 三角形と角No. 5

1 ① ( い う ) ② ( え お か )

2 ① ( 正方形 ) ② ( 長方形 ) ③ ( 二等辺三角形 ) ④ ( 正三角形 )  
 ⑤ ( 直角二等辺三角形 )

【まとめの問題】第1回(1/3)

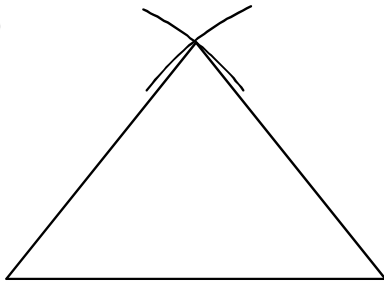
1 ① 二等辺三角形 ( ウ ) ( オ ) ② 正三角形 ( イ ) ( エ )

2 ① ( 5cm ) ② ( う ) の角

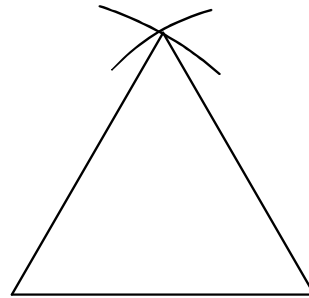
3 ① ( 正三角形 ) ② ( 3つ )

【まとめの問題】第1回(2/3)

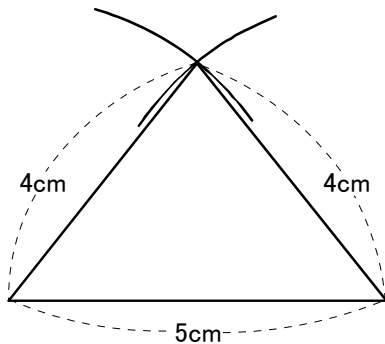
4 ①



②



③



【まとめの問題】第1回(3/3)

5 ① ● いちばん小さい角 ( い )

● わけ ( 辺のひらきがいちばん小さいから )

6 ① ( い ) の角 ② ( か ) の角



【まとめの問題】第2回(1/3)

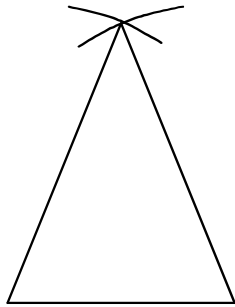
1 ① 二等辺三角形 ( イ ) ( カ ) ② 正三角形 ( ウ ) ( オ )

2 ① ( 5cm ) ② ( い の角 )

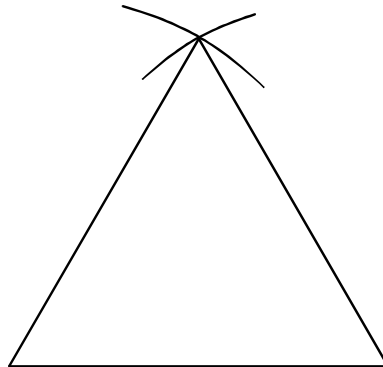
3 ① ( 正三角形 ) ② ( 3つ )

【まとめの問題】第2回(2/3)

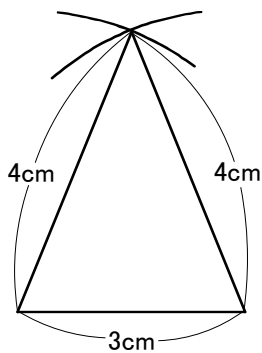
4 ①



②



③



【まとめの問題】第2回(3/3)

5 ① ● いちばん大きい角 ( あ )

● わけ ( 辺のひらきがいちばん大きいから )

6 ① ( あ の角 ) ② ( お の角 )