

P. 1 ふくしゅう No. 1

- ① (2) ② (2) ③ (3) ④ (3) ⑤ (3)
 ⑥ (4) ⑦ (4) ⑧ (4) ⑨ (4)

P. 2 ふくしゅう No. 2

- ① (2) ② (2) ③ (2) ④ (3) ⑤ (3)
 ⑥ (3) ⑦ (4) ⑧ (4) ⑨ (4)

P. 3 ふくしゅう No. 3

- ① (4) ② (3) ③ (2) ④ (7) ⑤ (5)
 ⑥ (8) ⑦ (5) ⑧ (5) ⑨ (5)

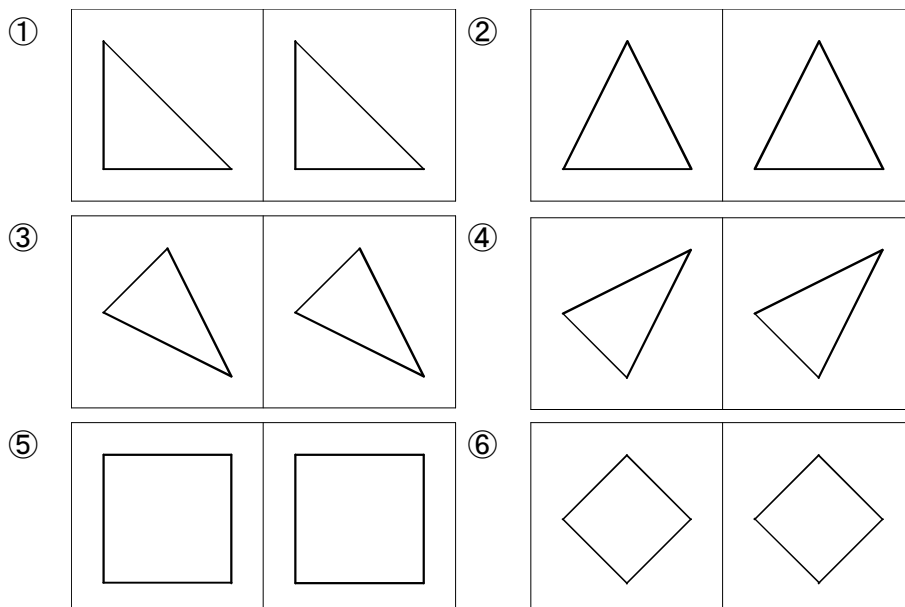
P. 4 ふくしゅう No. 4

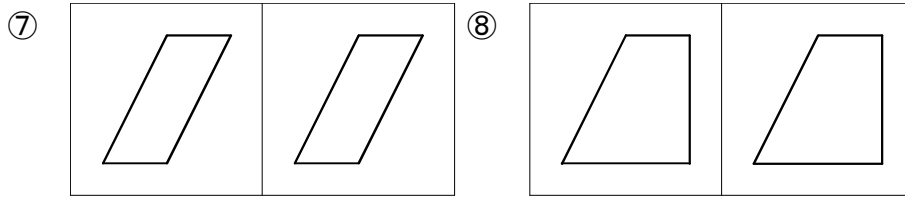
- ① (4) ② (3) ③ (6) ④ (9) ⑤ (8)
 ⑥ (12) ⑦ (18) ⑧ (18) ⑨ (16)

P. 5 形づくり No. 1

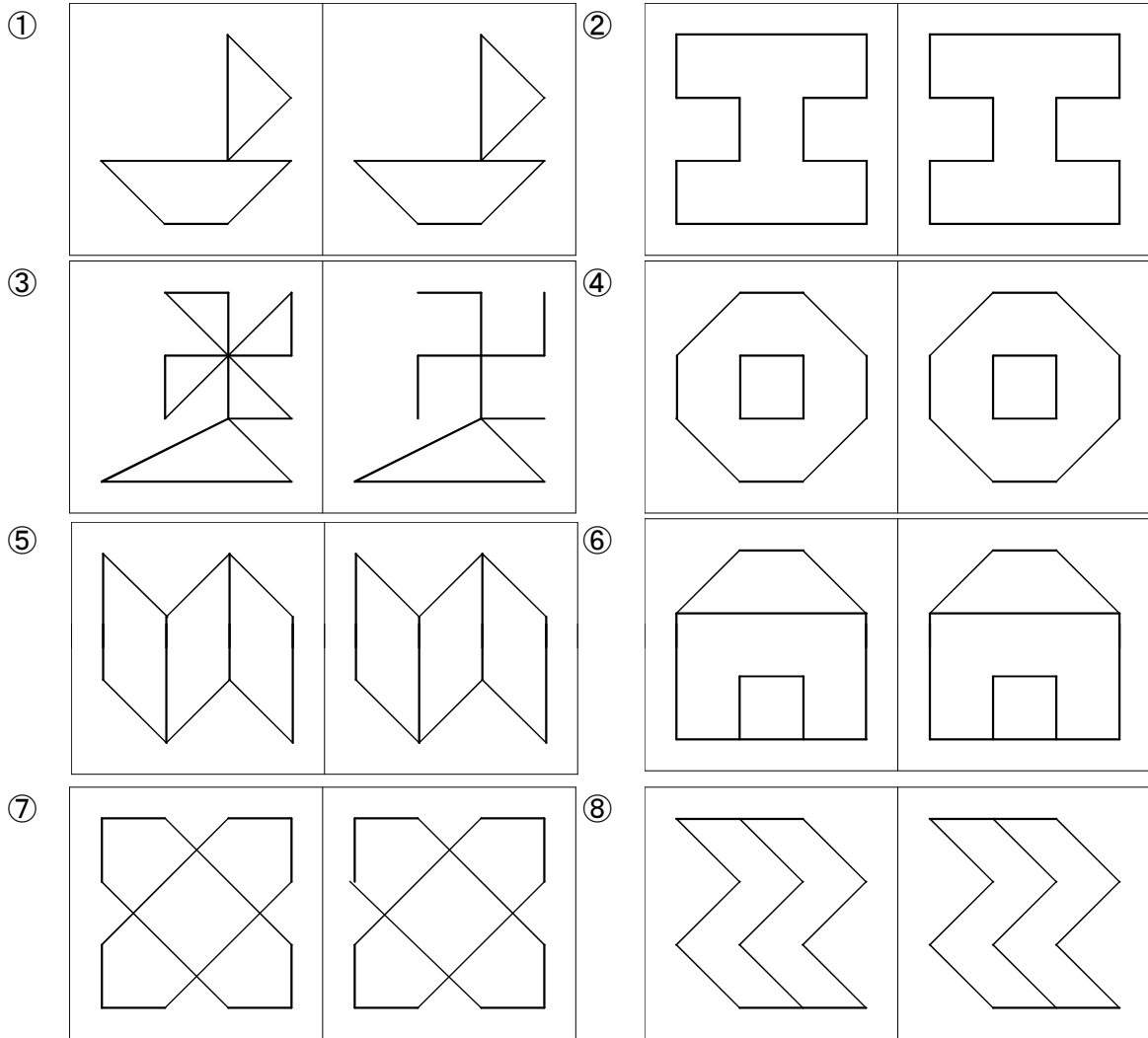
- 1 ① (○) ② () ③ (○)
 2 ① (3) ② (4) ③ (4) ④ (4) ⑤ (3)
 ⑥ (3)

P. 6 形づくり No. 2

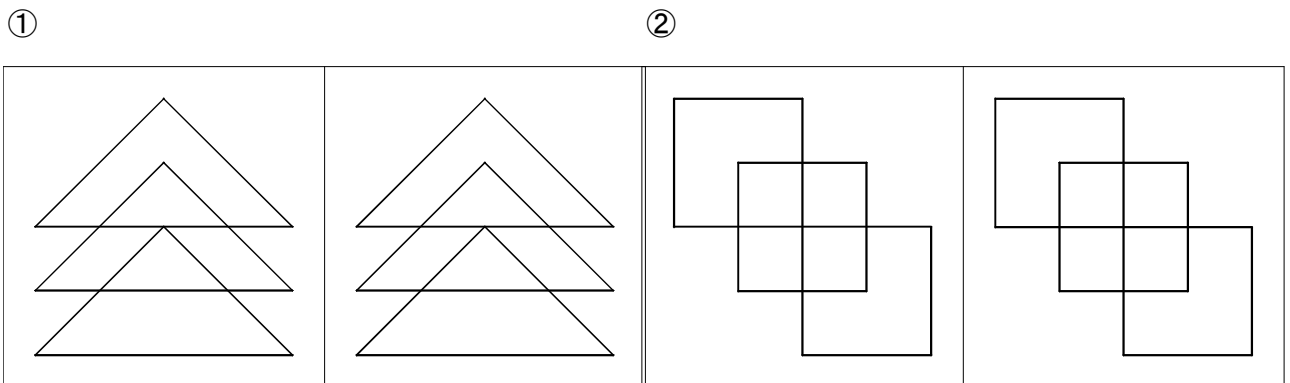




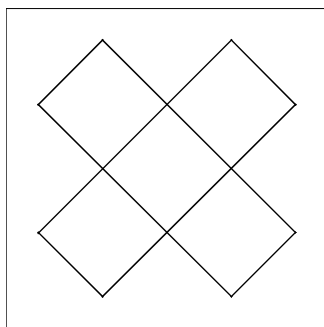
P. 7 形づくり No. 3



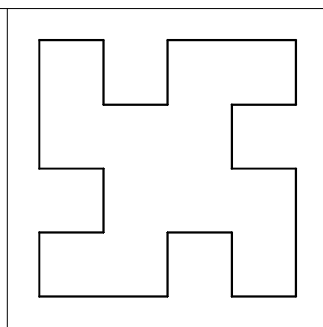

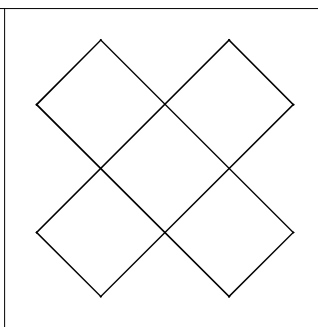
P. 8 形づくり No. 4



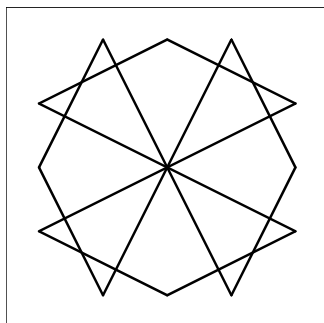
③



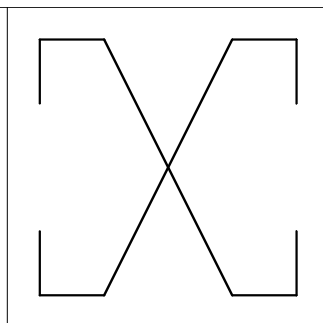
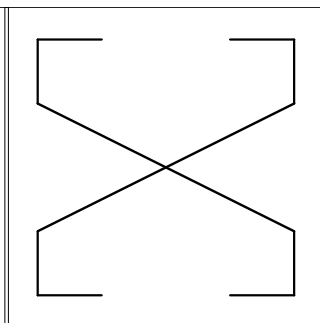
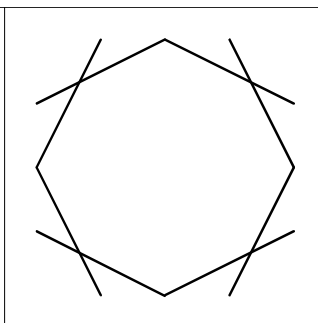
④



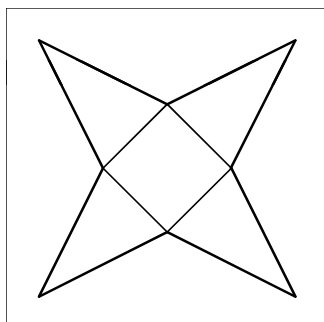
⑤



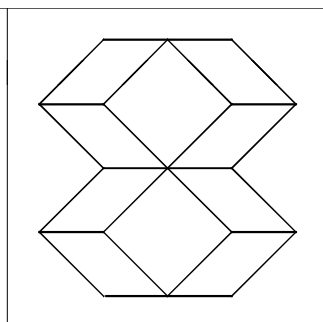
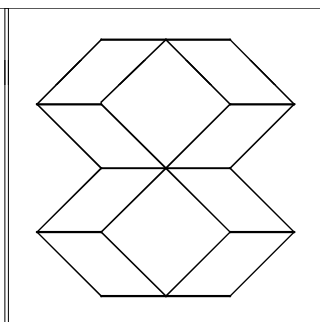
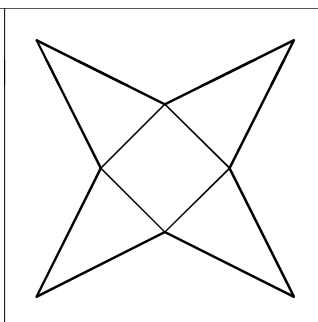
⑥



⑦



⑧



P. 9 三角形と四角形 No. 1

① (三角形) ② (四角形) ③ (四角形) ④ (三角形)

P. 10 三角形と四角形 No. 2

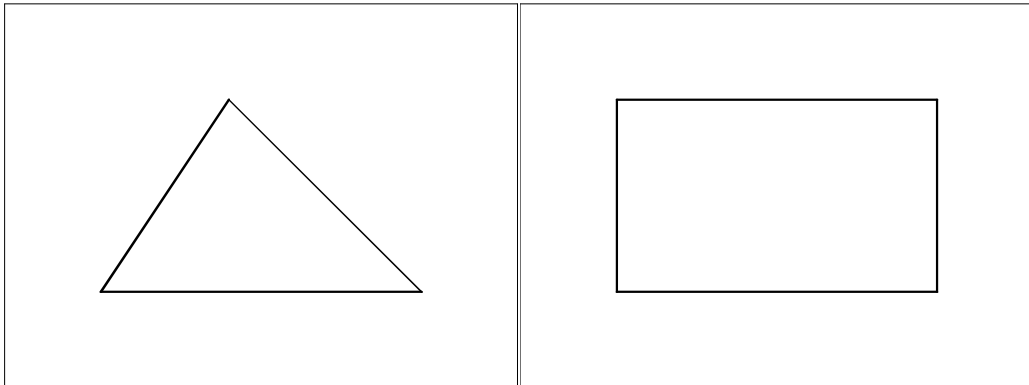
1 三角形 (④) 2 ① (3) ② (4)
 四角形 (②, ⑤, ⑧)

P. 11 三角形と四角形 No. 3

1

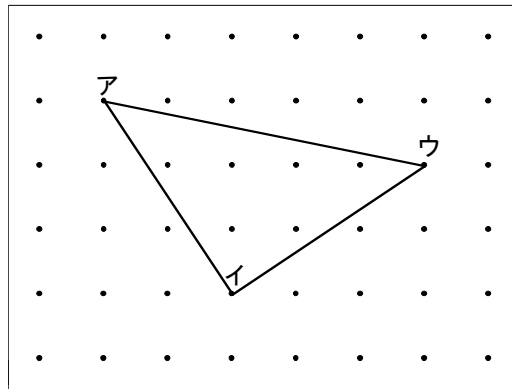
① (解答例)

② (解答例)



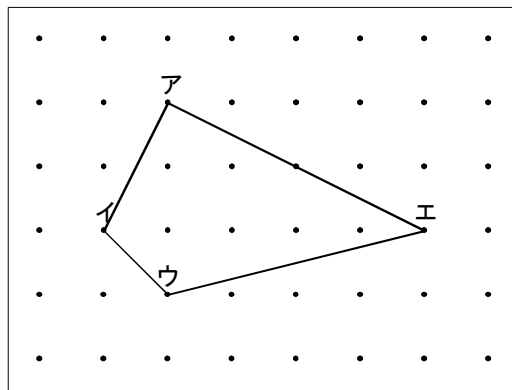
2

(三角形)



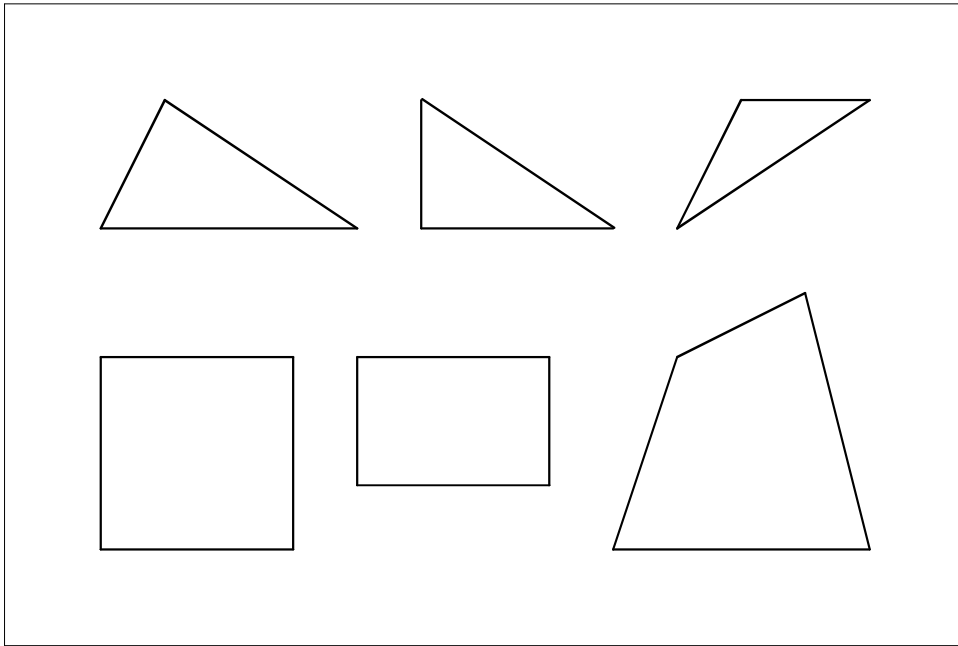
3

(四角形)



P. 12 三角形と四角形 No. 4

1 (解答例)



2 ① (三角形) ② (四角形) ③ (四角形) ④ (三角形)

P. 13 三角形と四角形 No. 5

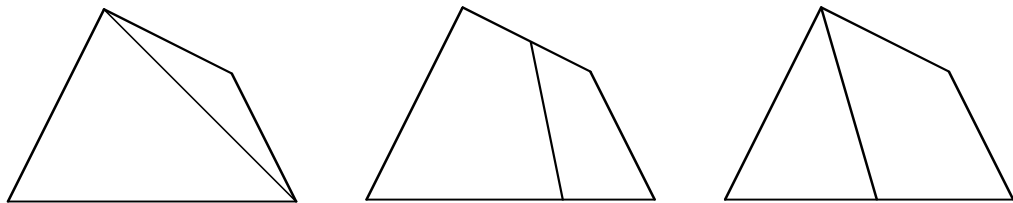
1 (三角形 2) 2 (四角形 2) 3 (三角形 四角形)

P. 14 三角形と四角形 No. 6

1 (三角形 2) 2 (三角形 四角形) 3 (四角形 2)

P. 15 三角形と四角形 No. 7

1 ① (解答例) ② (解答例) ③ (解答例)



2 (三角形 4)

P. 16 三角形と四角形 No. 8

1 (三角形 3) 2 (2 四角形 1) 3 (四角形 4)

P. 17 三角形と四角形 No.9

1 三角形 へん (3つ) 四角形 へん (4つ)
 ちょう点 (3つ) ちょう点 (4つ)

2 ① (三角形) (3) (3)
 ② (四角形) (4) (4)

P. 18 直角と長方形 No.1

1 ① (あ い う え) ② (お き)

P. 19 直角と長方形 No.2

1 (②, ③, ⑤)
 2 ① (い え) ② (お か き く)

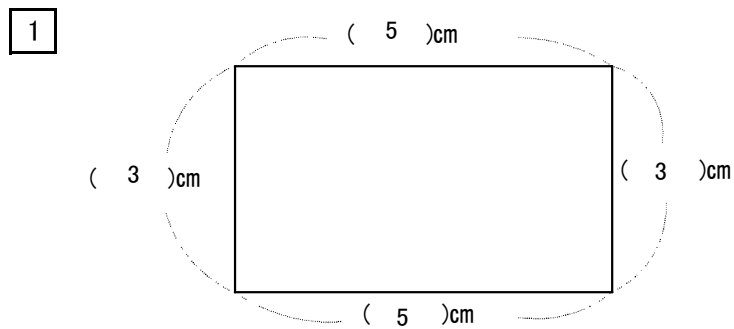
P. 20 直角と長方形 No.3

1 ① (4つ) ② (4つ)

P. 21 直角と長方形 No.4

1 (あ え)
 2 ① (2つ) ② (1つ) ③ (4つ)

P. 22 直角と長方形 No.5

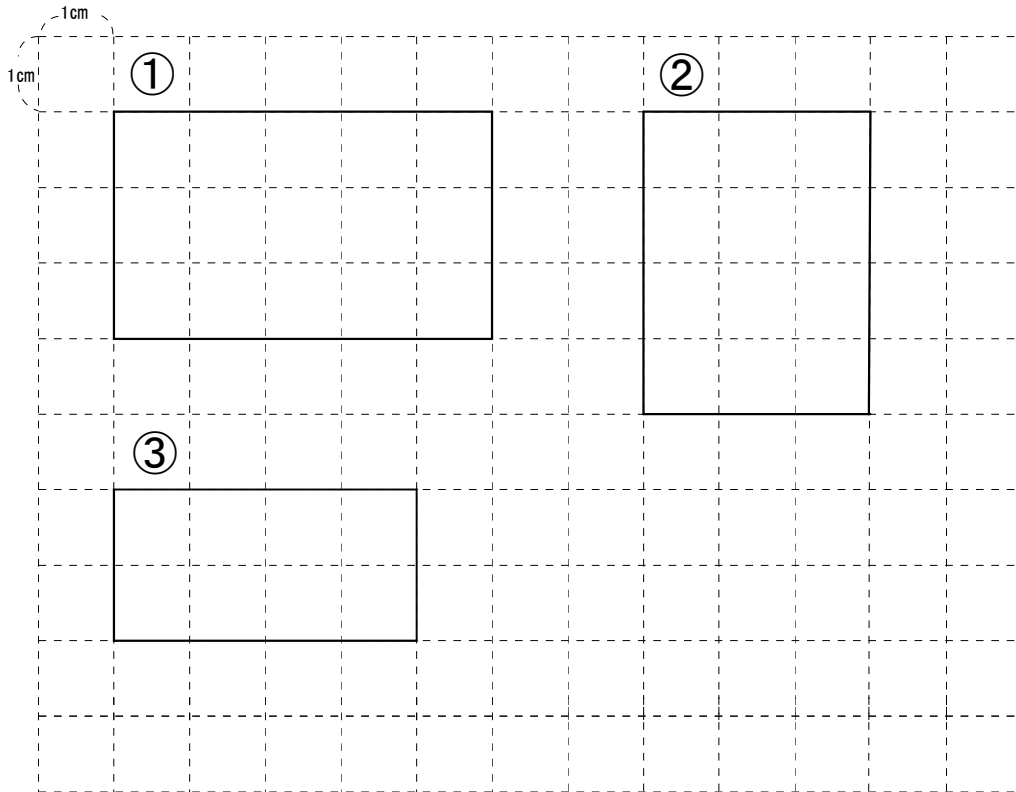


2 あ (5cm) い (8cm)

P. 23 直角と長方形 No. 6

1 (①, ③, ⑤)

2 ①~③



P. 24 直角と長方形 No. 7

1 (②, ⑦, ⑨)

2 (へん)

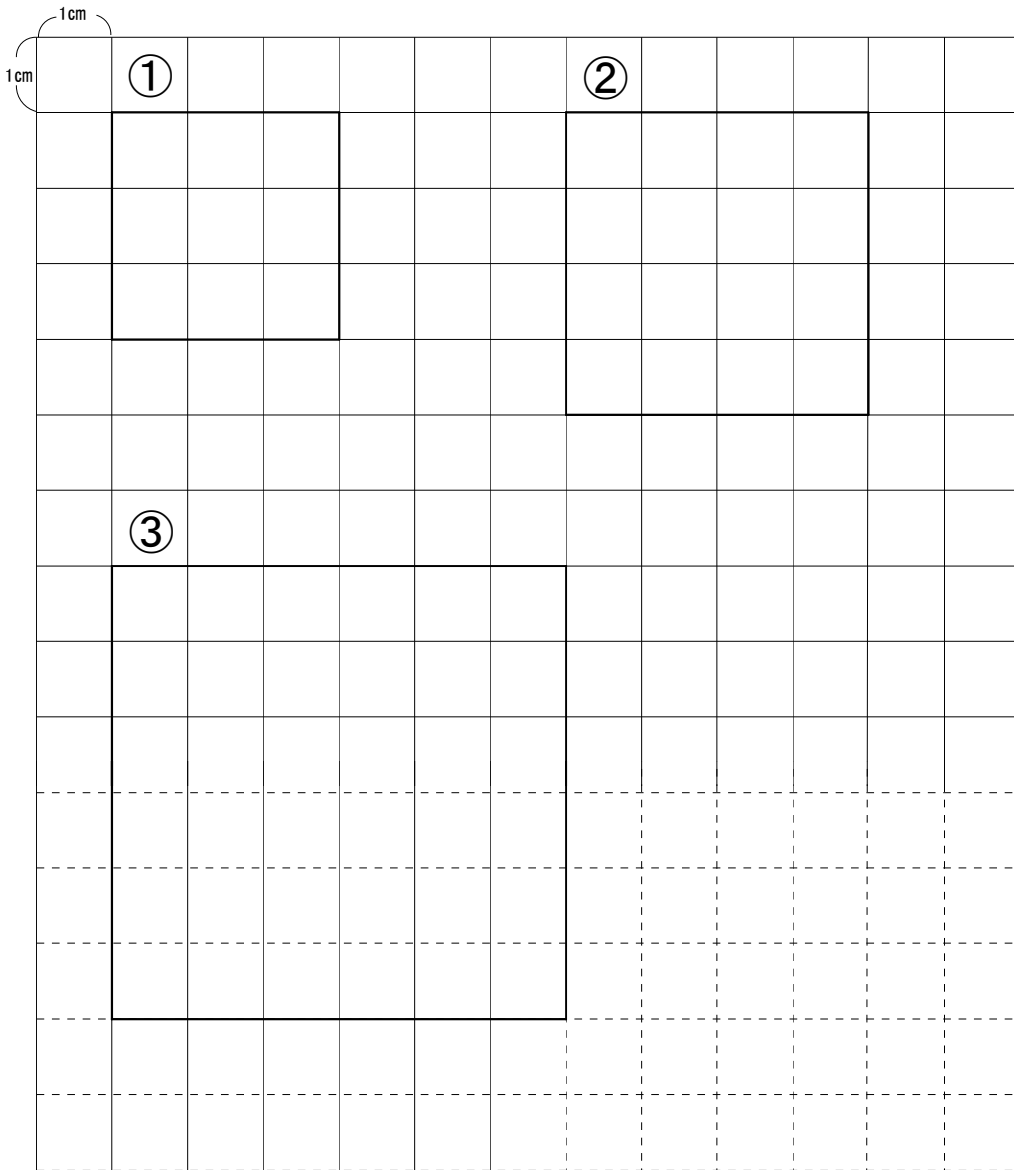
(ちょう点)

P. 25 正方形No. 1

1 (②, ④, ⑥)

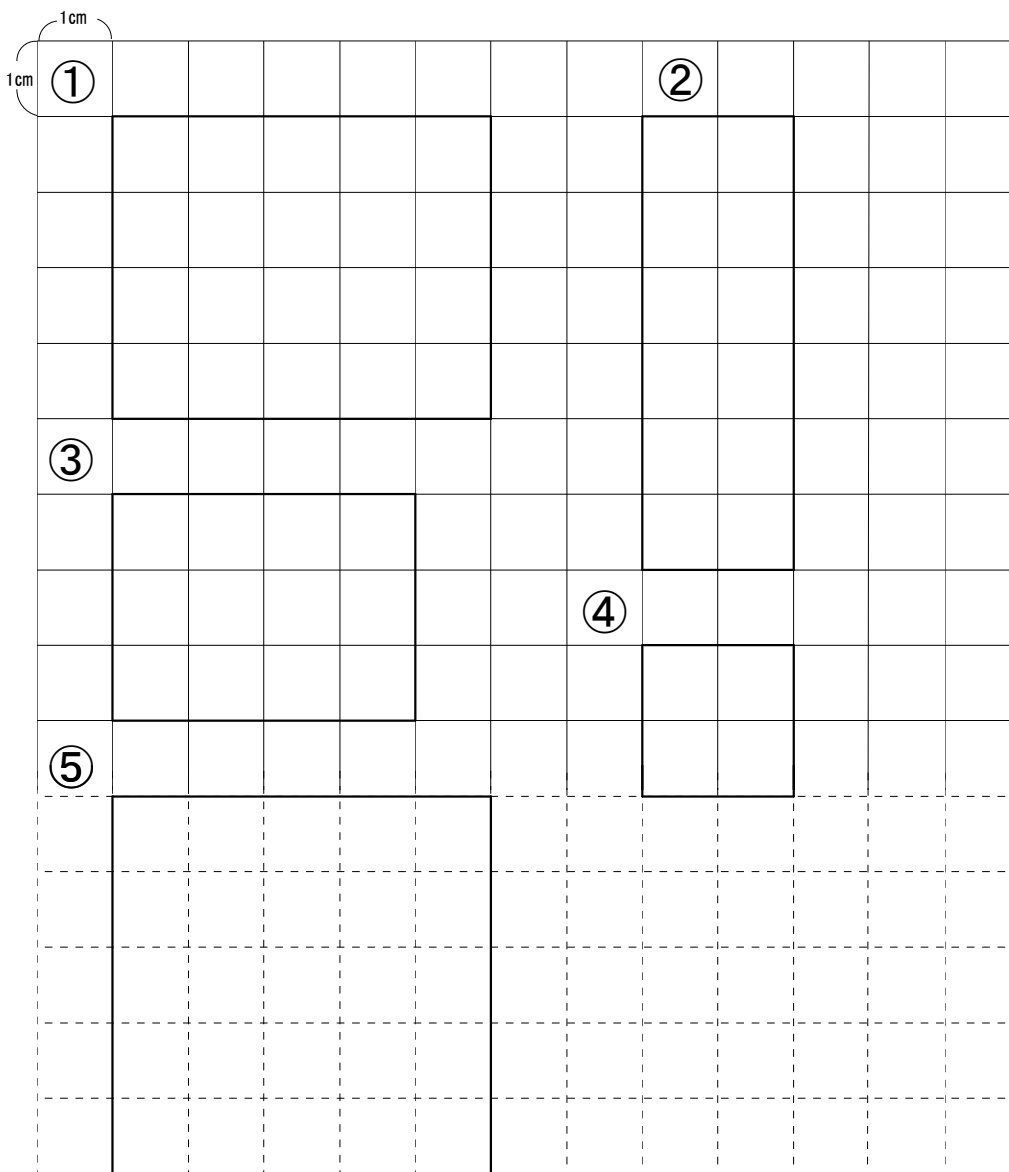
P. 26 正方形 No. 2

1 ①~③



P. 27 正方形 No. 3

1 ①~⑤



P. 28 正方形 No. 4

1 ① (直角) ② (5cm)

2 長方形 (②, ④) 正方形 (③)

P. 29 直角三角形 No. 1

1 ① (2つ) ② (2つ)

2 (①, ②, ④)

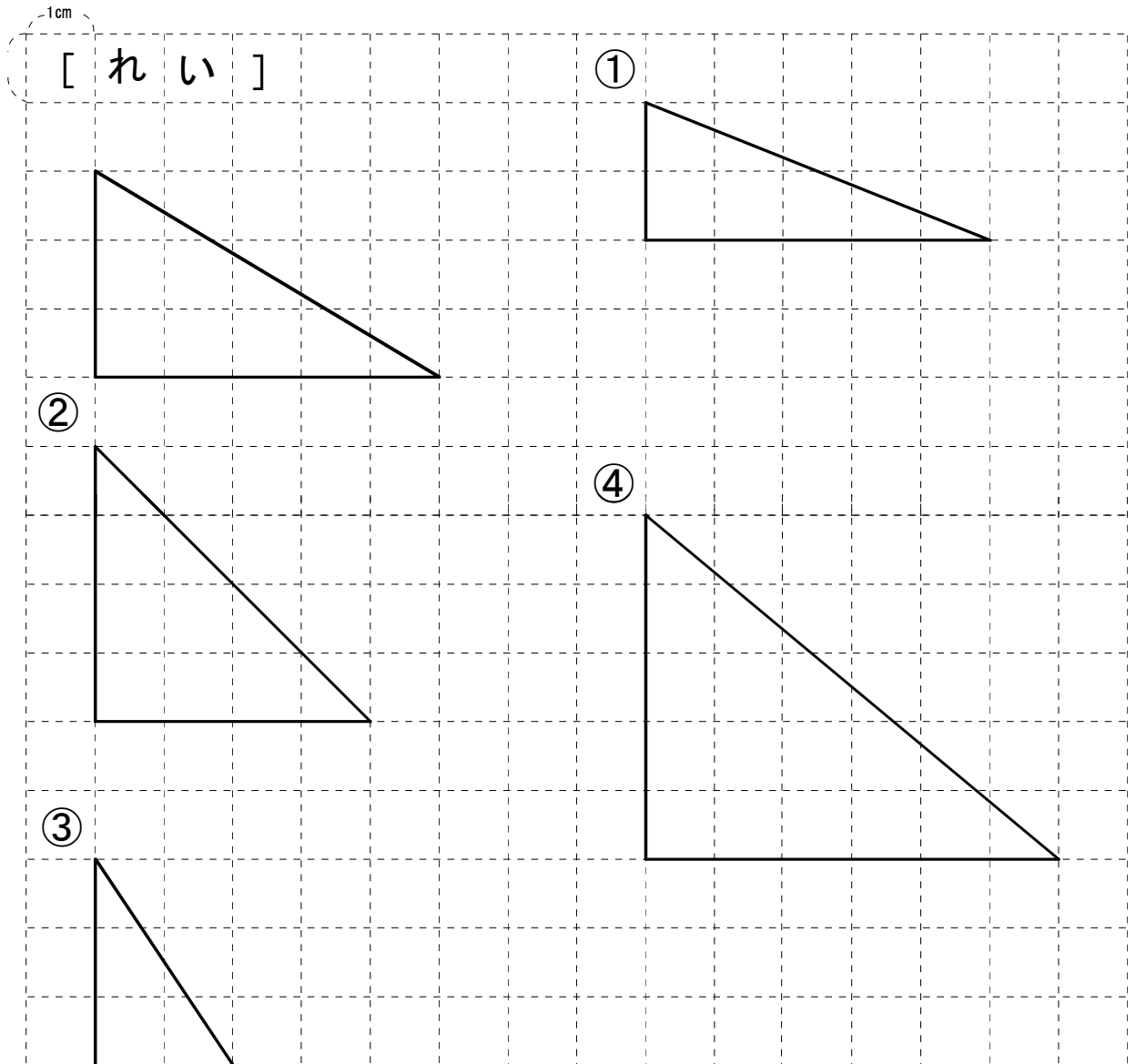
P. 30 直角三角形No. 2

1 ① (3つ) ② (3つ)

2 (②, ③)

P. 31 直角三角形No. 3

1 ①~④



【まとめの問題】第1回(1/3)

1 長方形 (う) 正方形 (お) 直角三角形 (い)

2 ① ② へん (4つ) ちょう点 (4つ)

③ へん (3つ) ちょう点 (3つ)

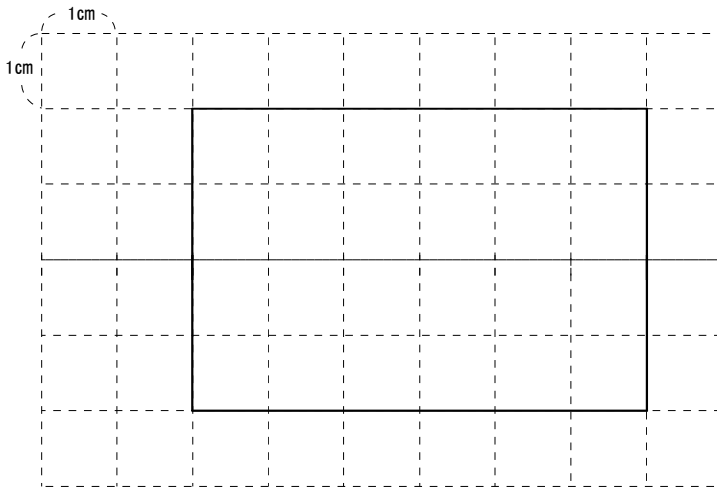
(2/3)

3 ① (直角三角形) ② (長方形) ③ (正方形)

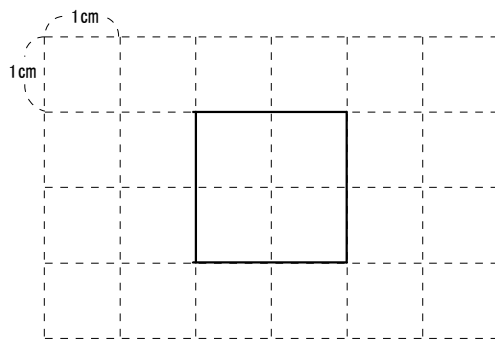
4 (う) と (お)

(3/3)

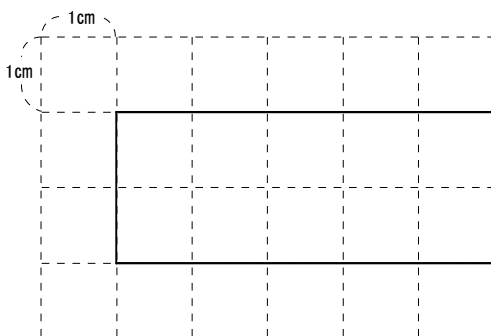
5 ①

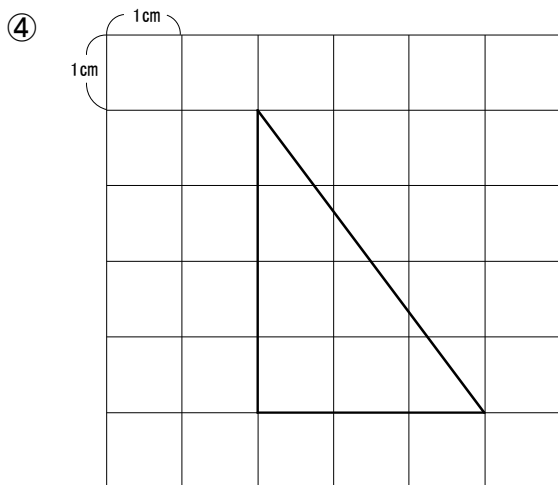


②



③





【まとめの問題】第2回(1/3)

1 長方形 (か) 正方形 (う) 直角三角形 (お)

2 ① ちょう点 ② へん (3つ) ちょう点 (3つ)

へん

③ へん (4つ) ちょう点 (4つ)

(2/3)

3 ① (長方形) ② (直角三角形) ③ (正方形)

4 (い) と (お)

(3/3)

