

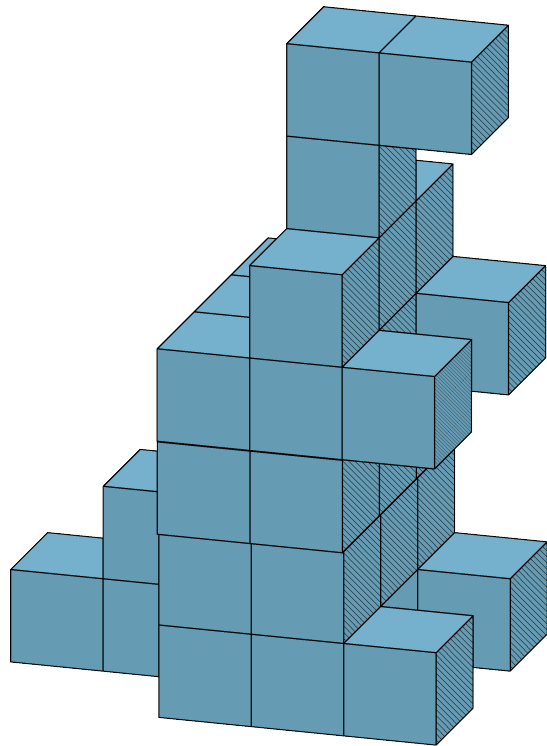
りったいパズル D16・D17



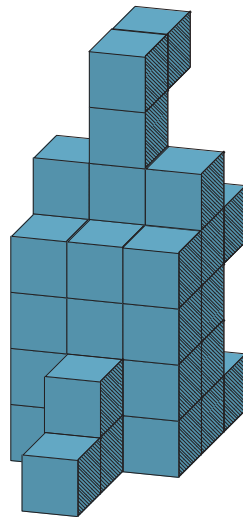
◆ ブロックでできた ①~④の ぶひんで つぎの りったいを それぞれ つくりましょう。

D-16

カンガルー A



(36 こ)



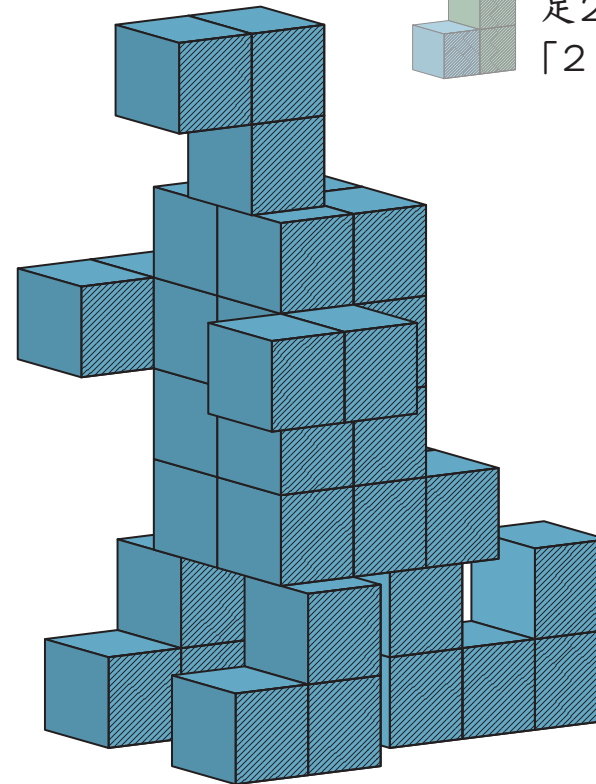
うしろがわ

できたしるし

--	--	--

D-17

カンガルー B



足2本のうち1本は
「2こ+1こ」で

(36 こ)

できたしるし

--	--	--